

ESKON Sprache

Erfassung **schulischer Kompetenzen Neuzugezogener**

PERSISCH (FARSI)

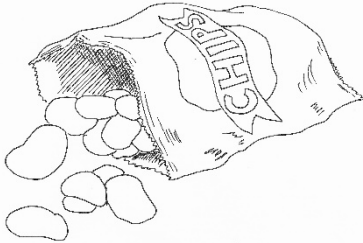
Aufgabenset 7 bis 9 Jahre Schulerfahrung

تکلیف

1. متن زیر را بخوان و پاسخ درست را علامت بزن.

چیپس

چیپس برش‌های نازک سیب زمینی است که در روغن سرخ شده است و از بحث برانگیزترین اختراعات قرن ۱۹ به شمار می‌آید. گزارشات زیادی بر این اساس است که چه کسی آن را اختراع کرده و به فروش رسانده است. دست یافتن به اصل این داستانها تقریباً غیر ممکن است و همینطور این که تا چه حد آنها با واقعیت مطابقت دارند. شایع‌ترین داستان از آشپزی به نام جرج کروم است که تا بحال باقی مانده است.



او در تاریخ ۲۴ اوت ۱۸۵۳ برای راضی کردن یک مشتری ناراضی دست به کار جدیدی زد. او سیب زمینی‌ها را به برش‌های نازک برید، آنها را سرخ

کرد و به آنها نمک زد. نتیجه: مشتری ناراضی به یک مشتری بسیار راضی تبدیل شد. این داستان میتواند واقعیت داشته باشد ولی ما همچنین میدانیم که در همان قرن آشپزهای دیگری هم به همین فکر افتاده بودند. به محصولات مشابهی در تعدادی از کتابهای آشپزی امریکایی اشاره میشوند و فرآورده‌های مشابهی نیز در بریتانیا بوجود آمدند.

تازه در سالهای ۱۸۹۰ چیپس در فروشگاه‌های مواد غذایی به فروش می‌رسد ولی افزایش نهایی فروش این کالا همراه با اختراع دستگاه سرخ‌کن در اواخر سالهای ۱۹۲۰ بوجود آمد. علاوه بر آن در طول دهه‌ها بسته بندی این کالا تغییر پیدا کرد تا بسته چیپس بتواند در مسافت طولانی را در ایالت متحده حمل بشود. در اروپا چیپس تازه در سالهای ۱۹۵۰ به عرضه و فروش رسید و محبوبیت پیدا کرد.

علت نوشتن این متن توسط نویسنده چیست؟

- جهت اطلاع رسانی خواننده در مورد تاریخچه چیپس سیب زمینی
- جهت سرگرم کردن خواننده با اطلاعات خنده دار.
- جهت یاد دادن طرز تولید چیپس سیب زمینی به خواننده.

آیا ما می‌دانیم چه کسی چیپس سیب زمینی را اختراع کرد؟

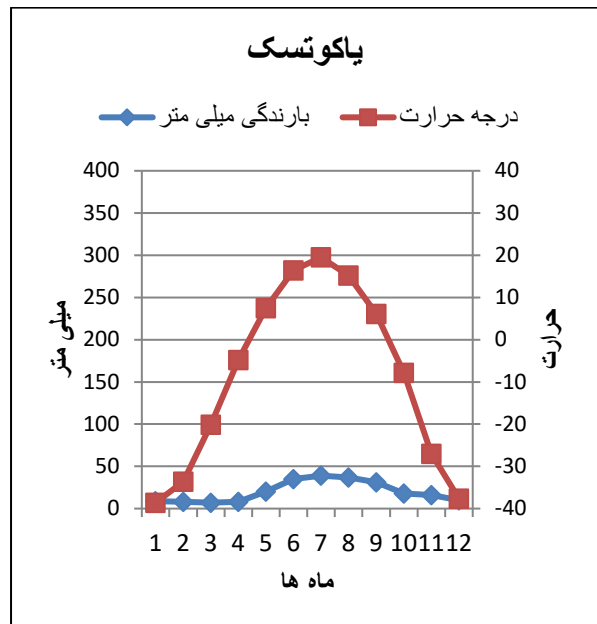
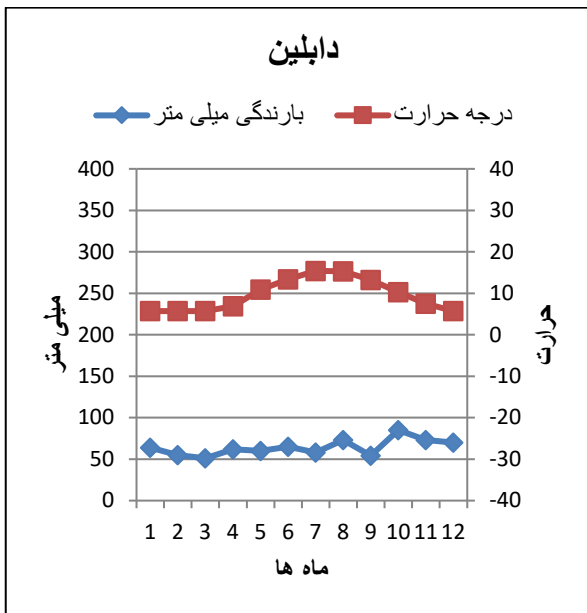
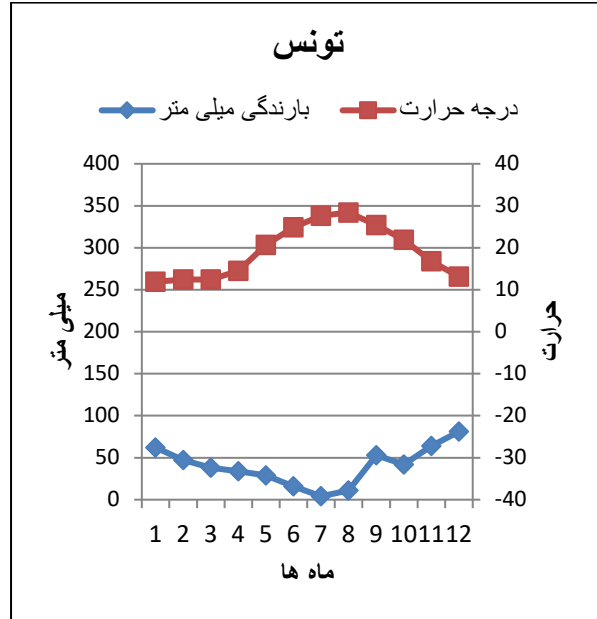
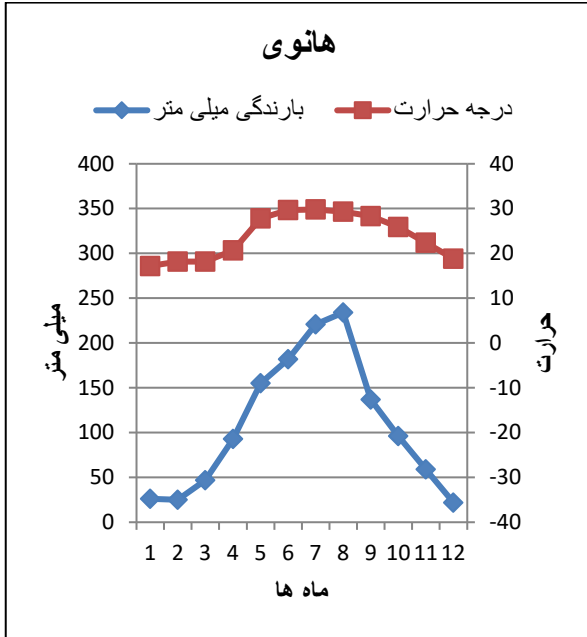
- بله او جرج کروم بود.
- نه، افراد مختلفی میتوانند مخترع آن باشند.
- نه، ولی ما میدانیم کجا اختراع شد.

- ما حدوداً می‌دانیم چیپس سیب زمینی چه زمانی اختراع شد. درست
- نادرست
- چیپس سیب زمینی اول در اروپا به فروش رسید. درست
- نادرست
- دلایل گوناگونی برای به تدریج افزایش خوردن چیپس در قرن بیستم وجود دارد. درست
- نادرست

2. در زیر یک متن کوتاه به همراه چهار نمودار هوا در مورد چهار شهر مختلف را میبینی. متن را بخوان، به نمودارها توجه کن و بصورت شفاهی و کوتاه توضیح بده هر کدام در چه مورد است.

دمای هوا و بارندگی

در بعضی نقاط دنیا در تابستان باران فصل می بارد و در بعضی نقاط دیگر تقریباً باران نمی بارد. در مناطق دیگر تفاوت زیادی بین دمای تابستان و زمستان مشاهده میشود، مانند کشور سوئیس. شهرهای نشان داده شده در نمودارهای زیر هر کدام در یک قاره قرار دارند و وضعیت آب و هوایی متفاوتی دارند. هانوی در ویتنام است، تونس پایتخت کشور تونس در ساحل مدیترانه است. شهر دابلین در کشور ایرلند قرار دارد و شهر یاکوتسک در مرکز روسیه قرار دارد.



تصویر ۱. نمودار آب و هوا از نمودار بارندگی و نمودار دما تشکیل شده است. بارندگی به میلی متر در سمت چپ نمودار خوانده می‌شود و دما به درجه سلسیوس سمت راست نمودار خوانده می‌شود. نمودارها دما و بارندگی را به صورت متوسط از ماه ژانویه تا دسامبر نشان می‌دهند.

3. پرسش های مربوط به متن "دما و بارندگی" (تمرین شماره ۲)

الف. بر اساس متن و نمودارهای تمرین ۲ شهر مناسب را در جدول زیر تعیین کن .

یاکوتسک	دابلین	تونس	هانوی	
				تفاوت دما در طول سال در میانگین بین ۵ و ۱۵ درجه متغیر است.
				این شهر در تابستان کمترین بارندگی را دارد و از ماه می تا اکتبر حرارت آن ۲۰ درجه یا بیشتر است.
				بارندگی از ماه اکتبر تا آوریل می تواند بصورت ریزش برف باشد.

ب. به نمودار شهر یاتوسک در تمرین ۲ توجه کن و پاسخ درست را در جدول زیر علامت بزن .

دمای شهر یاتوسک در ماه نوامبر به این قرار است:

<input type="checkbox"/>	میان صفر درجه سلسیوس و ۲۰ میلیمتر بارندگی
<input type="checkbox"/>	میان منفی ۱۰ درجه سلسیوس و ۵۰ میلیمتر بارندگی
<input type="checkbox"/>	در حدود منفی ۱۰ درجه سلسیوس و ۶۰ میلیمتر بارندگی
<input type="checkbox"/>	کمی بیشتر از منفی ۳۰ درجه و ۱۵ میلیمتر بارندگی

پ. در کدام یک از شهر ها بنا به نمودارهای تمرین ۲ تفاوت مقدار بارندگی از همه بیشتر است؟ دور شهرهای مورد نظر یک دایره بکش .

اختلاف مقدار بارندگی مابین این دو شهر از همه بیشتر است :

هانوی	تونس
دابلین	یاکوتسک

اختلاف دمای هوا مابین این دو شهر از همه بیشتر است :

هانوی	تونس
دابلین	یاکوتسک

4. لطفا دو نامه‌های خواننده زیر را بخوانید و بطور مختصر توضیح دهید آنها درباره ی چه هستند؟

نامه خواننده ۱

به بچه‌ها بجای شیر آب بدهید

مصرف شیر گاو در مدارس طبیعی نیست. انسان تنها گونه بین موجودات زنده جهان است که شیر گونه دیگر را می‌خورد. چهارشنبه این هفته یک تحقیق علمی جامعی در روزنامه اعلام شد. در آن مقاله مستند میشود که نظر رایج بر شیر گاو قدیمی شده است. بنا به این تحقیق مصرف شیر با طول عمر کوتاهتر و ریسک بالا برای شکستگی استخوان ارتباط دارد. شیر گاو نه طبیعی است و نه برای سلامت بشریت و محیط زیست مناسب است. به این جهت وقت آن فرا رسیده که فرزندان ما عادت‌های جدید، سالم و سازگار با محیط زیست را یاد بگیرند.

به شاگردان مدرسه جهت تشنگی آب بدهید!

هربرت مولر

هیأت مدیره سازمان "تغذیه گیاه خواری"

نامه خواننده ۲: پاسخ به هربرت مولر

شیر متعلق به سفره ناهار

هربرت مولر نمی‌خواهد که بچه‌ها در مدرسه شیر بخورند. نظر سازمان من و سازمان ملل متحد مخالف با نظر ایشان است. تمام بچه‌ها می‌بایست بصورت رایگان در مدرسه شیر دریافت کنند.

شیر حاوی ۱۸ از ۲۲ ماده غذایی است که بدن ما برای نیازهای روزانه به آن احتیاج دارد و ماده غذایی سالمی برای بچه‌های مدرسه ای می‌باشد. بنا به تحقیقات جدید در صورت نبودن شیر در تغذیه روزانه در مدرسه مواد غذایی به اندازه کافی به آنها نمیرسد.

متخصص تغذیه خانم اولا روزاندر از دانشگاه کریستیان ستاد تحقیقی را در سه مدرسه در سوئد انجام داد. در هر سه مدرسه نهار سرو شد ولی در یک مدرسه شیر هم در کنار آن به شاگردان داده شد.

نتیجه این آزمایش نشان داد که بچه‌های که با حجم کم غذا می‌خورند یا وقت کافی برای خوردن غذا ندارند به شیری که حاوی کلسیم ویتامین ب ۱۲ و منیزیم است نیاز دارند. به همین دلیل ما در مدارس به شیر نیاز داریم

سوزان فیستر

نماینده انجمن "پرو باور"

5. بنا به نامه‌های خواننده در تمرین ۴ پاسخ صحیح را علامت بزن .

الف. چرا به نظر خانم فیستر نوشیدن شیر در مدرسه مهم است؟

- چون وقتی بچه‌ها شیر میخورند می توانند بیشتر غذا بخورند.
- مصرف شیر باعث طول عمر بیشتر می شود.
- چون شیر حاوی مواد غذایی زیادی است.

ب. چرا به نظر آقای مولر بهتر است که بچه‌ها بجای شیر آب بنوشند؟

- چون آب مناسب تر از شیر است.
- چون آب برای محیط زیست بهتر است.
- چون آب تشنگی را بهتر برطرف می کند.

پ. نتیجه آزمایش بنا به نامه‌های خوانندگان چیست؟

- مصرف شیر هم مفید و هم مضر است.
- وعده‌های غذا در مدرسه به اندازه کافی حاوی مواد غذایی هستند.
- مصرف شیر باعث ساخته شدن استخوانهای قوی میشود.

ت. چرا خانم فیستر نامه خواننده را مینویسد؟

- او می خواهد به این ترتیب توضیح دهد که چرا حق با آقای مولر نیست.
- او می خواهد توضیح دهد که آب برای محیط زیست مناسب است.
- او نمی خواهد که بچه‌های مدرس کم غذا بخورند.

- ث. آقای مولر استدلال می کند که بر اثر خوردن زیاد شیر طول عمر کاهش می یابد .
- نادرست

- ج. آقای مولر و خانم فیستر هر دو در نامه‌های نوشته شده خود درست
- نادرست

- چ. محققین در رابطه با تاثیر مصرف شیر هم عقیده هستند
- نادرست

6. به نظر شما کدام یک از نامه‌های خواننده در تمرین ۴ قانع‌کننده‌تر است؟ لطفاً به صورت شفاهی دلایل خود را توضیح بده.

7. به جدول نگاه کن و به پرسش‌های زیر پاسخ بده.

نیکو ۱۵ ساله است به به کلاس نهم می رود. او چهارشنبه بعد از ظهرها به عنوان کمک کار در یک رستوران کار می کند. در وقت آزادش او علاقه به بازی فوتبال دارد. برنامه هفتگی او به این ترتیب است.

دوشنبه	سه شنبه	چهارشنبه	پنجشنبه	جمعه
فرانسه	انگلیسی	ریاضی	فرانسه	انگلیسی
زنگ تفریح	زنگ تفریح	زنگ تفریح	زنگ تفریح	زنگ تفریح
ریاضی	جغرافی	علوم طبیعی	علوم طبیعی	تاریخ
ریاضی	جغرافی	ادبیات و زبان	ادبیات و زبان	ادبیات و زبان
نهار	نهار	نهار	نهار	نهار
انگلیسی	تاریخ	انگلیسی	ادبیات و زبان	ورزش
زنگ تفریح	زنگ تفریح	زنگ تفریح	زنگ تفریح	زنگ تفریح
ادبیات و زبان	ورزش	ریاضی	موسیقی	
		کار		
		کار		
		کار	فوتبال	
		کار	فوتبال	
		کار		

پرسش

نیکو در هفته چند جلسه ریاضی دارد؟

پاسخ

کدام درس را نیکو در هفته فقط یک بار دارد؟

پاسخ

چه درسی را نیکو هیچ وقت قبل از نهار ندارد؟

پاسخ
